

30 高等学校 地理歴史科 (世界史) 問題用紙

(10枚のうち1)

受験番号		氏名	
------	--	----	--

(答えは、すべて解答用紙に記入すること。)

1 次の文章を読んで、下の1～4に答えなさい。

著作権保護の観点により、掲載いたしません。

1 下線部 ① に関して、20世紀の科学技術について述べたものはどれですか。次の(ア)～(エ)の中から選び、その記号を書きなさい。

- (ア) ノーベルがダイナマイトを発明した。 (イ) フルトンが蒸気船を実用化した。
 (ウ) フォードが自動車の大量生産を実現した。 (エ) モールス(モース)が電信機を発明した。

2 下線部 ② に関して、次の文章中の(a)・(b)にあてはまる語は何ですか。下のア～エの組み合わせの中から選び、その記号を書きなさい。

著作権保護の観点により、掲載いたしません。

	ア	イ	ウ	エ
(a)	アレクサンドル2世	アレクサンドル2世	ニコライ2世	ニコライ2世
(b)	ボリシェヴィキ	メンシェヴィキ	ボリシェヴィキ	メンシェヴィキ

3 下線部 ③ に関して、右の地図中A～Cは、ヴェルサイユ体制下のヨーロッパの国の位置を示しています。第一次世界大戦後に独立した国名と地図中A～Cとの組み合わせとして正しいものはどれですか。下のア～カの中から選び、その記号を書きなさい。

	ア	イ	ウ	エ	オ	カ
国名	ギリシア	ギリシア	ギリシア	ポーランド	ポーランド	ポーランド
位置	A	B	C	A	B	C



4 下線部 ④ に関して、次の(1)・(2)に答えなさい。

(1) 1920年代のヨーロッパの情勢について述べたものはどれですか。次の(ア)～(エ)の中から選び、その記号を書きなさい。

- (ア) イタリアでは、ムッソリーニがファシスト党による「ローマ進軍」を組織した。
 (イ) フランスでは、ユダヤ系の大尉ドレフュスがドイツのスパイとされたドレフュス事件が起きた。
 (ウ) イギリスでは、保守党のディズレーリ首相がスエズ運河会社の株を買収した。
 (エ) スペインでは、人民戦線政府に反対するフランコ将軍が反乱をおこし、内戦がはじまった。

30 高等学校 地理歴史科 (世界史) 問題用紙

(10枚のうち2)

受験番号		氏名	
------	--	----	--

(答えは、すべて解答用紙に記入すること。)

(2) 次の資料は、ある都市で開かれた会議で結ばれた条約の一部を示しています。この条約は何ですか。下の (ア) ~ (ウ) の中から選び、その記号を書きなさい。また、その記号が答えとなる理由を、簡潔に書きなさい。

著作権保護の観点により、掲載いたしません。

(ア) ラパロ条約

(イ) ロカルノ条約

(ウ) ローザンヌ条約

2 次の文章を読んで、下の1~5に答えなさい。

著作権保護の観点により、掲載いたしません。

1 下線部 ① に関して、次の絵は、宋 (北宋) の都開封の様子を示しています。開封の特徴として考えられることは何ですか。この絵から読み取れることを踏まえて、簡潔に書きなさい。

著作権保護の観点により、掲載いたしません。

30 高等学校 地理歴史科 (世界史) 問題用紙

(10枚のうち3)

受験番号		氏名	
------	--	----	--

(答えは、すべて解答用紙に記入すること。)

2 下線部 ② に関して、右の表は唐代、五代、宋代の科挙（進士）の年平均合格者数を示しています。宋の皇帝が目指した政治体制はどのようなものですか。表から読み取れることと殿試が加えられたことを踏まえて書きなさい。

王朝名	科挙（進士）の年平均合格者数
唐代	23名
五代	13名
宋代	123名

3 下線部 ③ に関して、次の文章は、宋（北宋）が北方の民族と結んだ和議（澶淵の盟）の誓書の一部を日本語に訳したものです。文中の（a）・（b）に入る語は何ですか。下のア～エの組み合わせの中から選び、その記号を書きなさい。

著作権保護の観点により、掲載いたしません。

	ア	イ	ウ	エ
(a)	契丹	契丹	女真	女真
(b)	馬	絹	馬	絹

4 下線部 ④ に関して、王安石が改革を実施した11世紀後半の世界の様子を述べたものはどれですか。次の（ア）～（エ）の中から選び、その記号を書きなさい。

- （ア） アッバース朝の第2代カリフのマンスールは、円形の首都バグダードを造営した。
- （イ） 東ローマ帝国のトリボニアヌスは、『ローマ法大全』を編纂した。
- （ウ） 平清盛は、太政大臣に就任した。
- （エ） 神聖ローマ皇帝のハインリヒ4世は、カノッサでローマ教皇グレゴリウス7世に謝罪した。

5 下線部 ⑤ に関して、次のことわざは宋の時代のものです。このことわざは蘇湖（江浙）がどのような地域であることを示していますか。当時の社会の様子を踏まえて、書きなさい。

蘇湖（江浙）熟すれば天下足る

30 高等学校 地理歴史科 (世界史) 問題用紙

(10枚のうち4)

受験番号		氏名	
------	--	----	--

(答えは、すべて解答用紙に記入すること。)

3 次の資料Ⅰ～Ⅳを見て、下の1～5に答えなさい。

著作権保護の観点により、掲載いたしません。

- 資料Ⅰに関して、資料中の にあてはまる語を書きなさい。なお、資料中の には、同じ語が入ります。
- 資料Ⅱに関して、この法令が出された時期に作成された文化財はどれですか。次のア～エの中から選び、その記号を書きなさい。
ア 建仁寺風神雷神図屏風 イ 東大寺南大門金剛力士像 ウ 法隆寺金堂釈迦三尊像 エ 妙心寺退蔵院瓢鮎図
- 資料Ⅲに関して、この法令が出された時期のできごとについて述べたものはどれですか。次のア～エの中から選び、その記号を書きなさい。
ア 足利尊氏は持明院統の光明天皇を立て、後醍醐天皇は吉野の山中で正統の皇位にあることを主張した。
イ 坂上田村麻呂は胆沢の地に胆沢城を築き、蝦夷の族長阿弭流為を降伏させた。
ウ 徳川家康は、京都の方広寺の鐘銘を口実に、大坂で豊臣氏を滅ぼした。
エ 源実朝が公暁に暗殺され、藤原頼経が征夷大將軍となった。

- 右の表は、広島藩主（浅野氏）の生年・出生地をそれぞれ示したものです。資料Ⅳに関して、傍線部の規定は、広島藩主の出生地にどのような影響を及ぼしたと考えられますか。表をもとに簡潔に書きなさい。

藩主（浅野氏）	生年	出生地
初代 長晟	天正14 (1586)	坂本
2代 光晟	元和3 (1617)	和歌山
3代 綱晟	寛永14 (1637)	江戸
4代 綱長	万治2 (1659)	江戸
5代 吉長	天和元 (1681)	江戸

(「新修広島市史」による。)

- 資料Ⅰ～Ⅳの文書が作成された時期を、年代の古い順に並べ、その記号を書きなさい。

30 高等学校 地理歴史科 (世界史) 問題用紙

(10枚のうち5)

受験番号		氏名	
------	--	----	--

(答えは、すべて解答用紙に記入すること。)

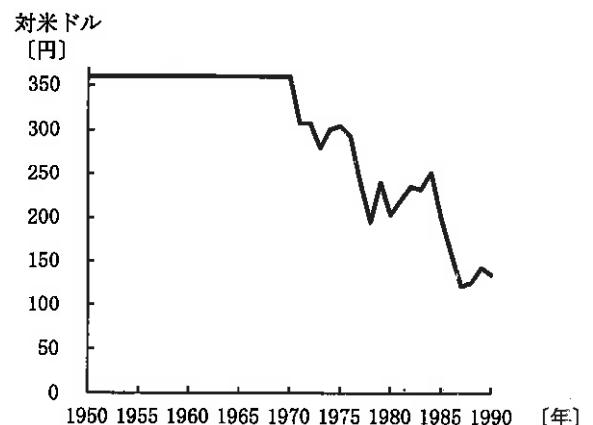
4 次の資料Ⅰ・資料Ⅱを見て、下の1～5に答えなさい。

資料Ⅰ	資料Ⅱ												
<p style="text-align: center;">著作権保護の観点により、掲載いたしません。</p>	<table border="1" style="width: 100%; border-collapse: collapse;"> <thead> <tr> <th style="width: 15%; text-align: center;">年</th> <th style="text-align: center;">できごと</th> </tr> </thead> <tbody> <tr> <td style="text-align: center;">嘉永6 (1853)</td> <td>ペリーが浦賀沖に現われフィルモア大統領の国書を提出して江戸幕府に開国を求める。…A</td> </tr> <tr> <td style="text-align: center;">明治5 (1872)</td> <td>グラントがアメリカ大統領のとき、岩倉具視を大使とする使節団が不平等条約の改正を目指してアメリカを訪問する。…B</td> </tr> <tr> <td style="text-align: center;">明治38 (1905)</td> <td>セオドア＝ローズヴェルト大統領の斡旋によって、ポーツマスで小村寿太郎とウィットが講和条約に調印する。…C</td> </tr> <tr> <td style="text-align: center;">昭和24 (1949)</td> <td>トルーマンがアメリカ大統領のとき、経済安定九原則の実施のために、ドッジが特別公使として派遣される。…D</td> </tr> <tr> <td style="text-align: center;">昭和47 (1972)</td> <td>ニクソンがアメリカ大統領のとき、沖縄が27年ぶりにアメリカの施政権下から日本復帰を実現する。…E</td> </tr> </tbody> </table>	年	できごと	嘉永6 (1853)	ペリーが浦賀沖に現われフィルモア大統領の国書を提出して江戸幕府に開国を求める。…A	明治5 (1872)	グラントがアメリカ大統領のとき、岩倉具視を大使とする使節団が不平等条約の改正を目指してアメリカを訪問する。…B	明治38 (1905)	セオドア＝ローズヴェルト大統領の斡旋によって、ポーツマスで小村寿太郎とウィットが講和条約に調印する。…C	昭和24 (1949)	トルーマンがアメリカ大統領のとき、経済安定九原則の実施のために、ドッジが特別公使として派遣される。…D	昭和47 (1972)	ニクソンがアメリカ大統領のとき、沖縄が27年ぶりにアメリカの施政権下から日本復帰を実現する。…E
年	できごと												
嘉永6 (1853)	ペリーが浦賀沖に現われフィルモア大統領の国書を提出して江戸幕府に開国を求める。…A												
明治5 (1872)	グラントがアメリカ大統領のとき、岩倉具視を大使とする使節団が不平等条約の改正を目指してアメリカを訪問する。…B												
明治38 (1905)	セオドア＝ローズヴェルト大統領の斡旋によって、ポーツマスで小村寿太郎とウィットが講和条約に調印する。…C												
昭和24 (1949)	トルーマンがアメリカ大統領のとき、経済安定九原則の実施のために、ドッジが特別公使として派遣される。…D												
昭和47 (1972)	ニクソンがアメリカ大統領のとき、沖縄が27年ぶりにアメリカの施政権下から日本復帰を実現する。…E												

(広島市市民局「オバマ大統領の広島訪問」による。)

- 1 資料Ⅰ中の下線部に関して、日本が、この戦争の終結に際して、アメリカ、イギリス及び中国の3交戦国の名で無条件降伏の勧告を受け、受諾したものは何ですか。その名称を書きなさい。
- 2 資料ⅡのAに関して、アメリカ船が必要とする燃料や食料などを供給することや、下田、箱館の2港を開くことなどを取り決めた条約は何ですか。次のア～エの中から選び、その記号を書きなさい。
 ア 日米安全保障条約 イ 日米修好通商条約 ウ 日米通商航海条約 エ 日米和親条約
- 3 資料ⅡのBに関して、この使節団に加わった留学生で、その後、女性の自立をめざし、女子英学塾を設立した人物はだれですか。次のア～エの中から選び、その記号を書きなさい。
 ア 津田梅子 イ 樋口一葉 ウ 平塚らいてう エ 与謝野晶子
- 4 次のア～ウは、資料Ⅱ中のB～Cの期間のできごとです。ア～ウのできごとを、年代の古い順に並べ、その記号を書きなさい。
 ア 日本郵船会社が設立された。
 イ 豊田佐吉が国産力織機の開発に成功した。
 ウ 第1回内国勸業博覧会が開かれた。

5 資料Ⅱ中のD・Eに関して、授業で右のグラフを示したところ、生徒から、「一定であった為替相場が大きく変動したのはなぜか。」という質問がありました。この質問に対して、あなたは、生徒にどのような内容を説明しますか。Eの頃のアメリカと日本の経済の情勢を踏まえて、簡潔に書きなさい。



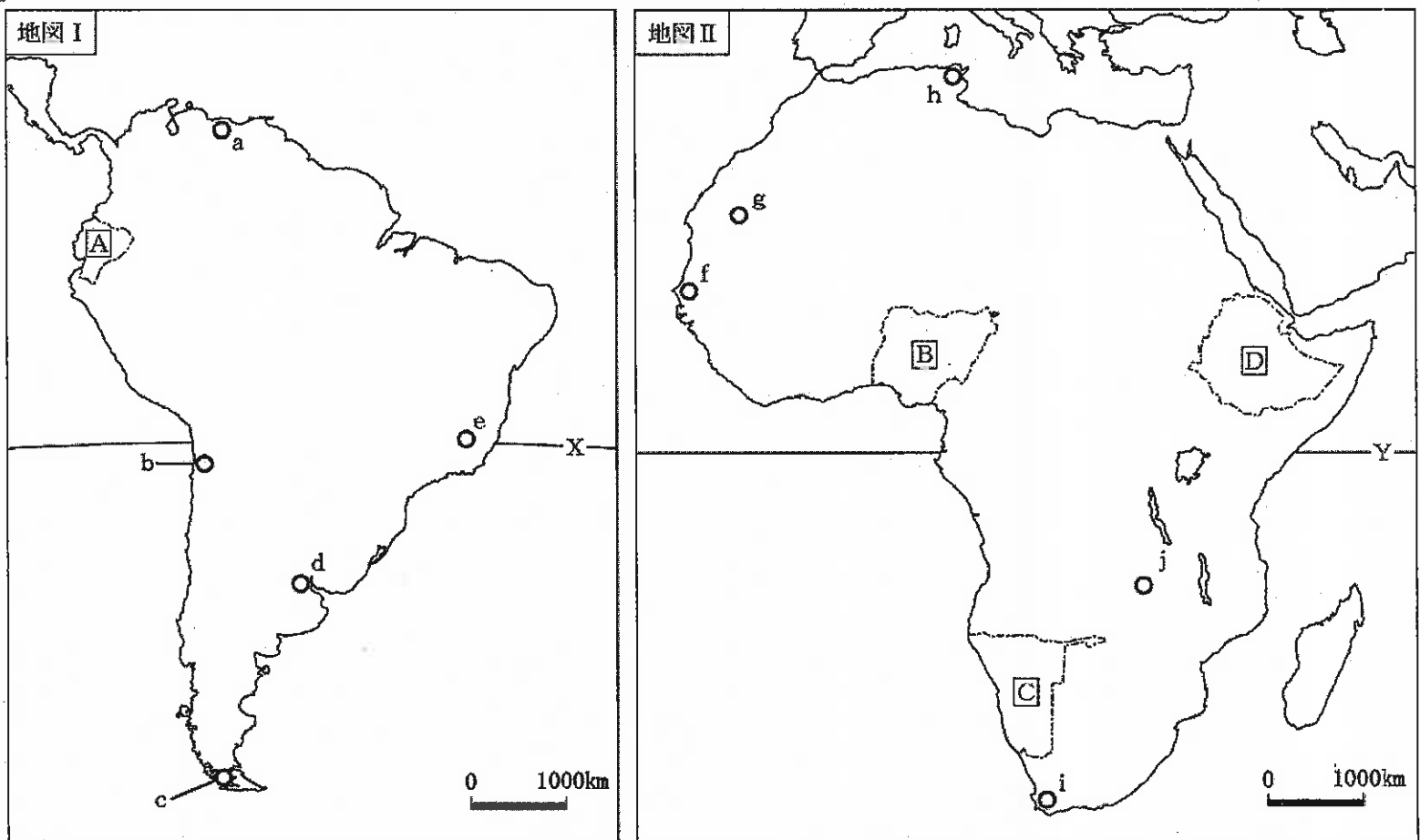
(総務省統計局「外国為替相場」による。)

(10枚のうち6)

受験番号		氏名	
------	--	----	--

(答えは、すべて解答用紙に記入すること。)

5 次の地図Ⅰ・地図Ⅱを見て、下の1～5に答えなさい。



- 1 ウェゲナーは、大陸の分布について仮説を発表しました。彼の考え方はどのようなものですか。地図Ⅰ・地図Ⅱを参考に、簡潔に書きなさい。
- 2 地図Ⅰ・地図Ⅱ中のX・Yは緯線を示しています。地図Ⅰ・地図Ⅱ中のa・c・hの都市のうち、最も高緯度に位置する都市と、[C]国の沿岸を流れる海流の向きを組み合わせて正しいものはどれですか。次のア～カの中から選び、その記号を書きなさい。

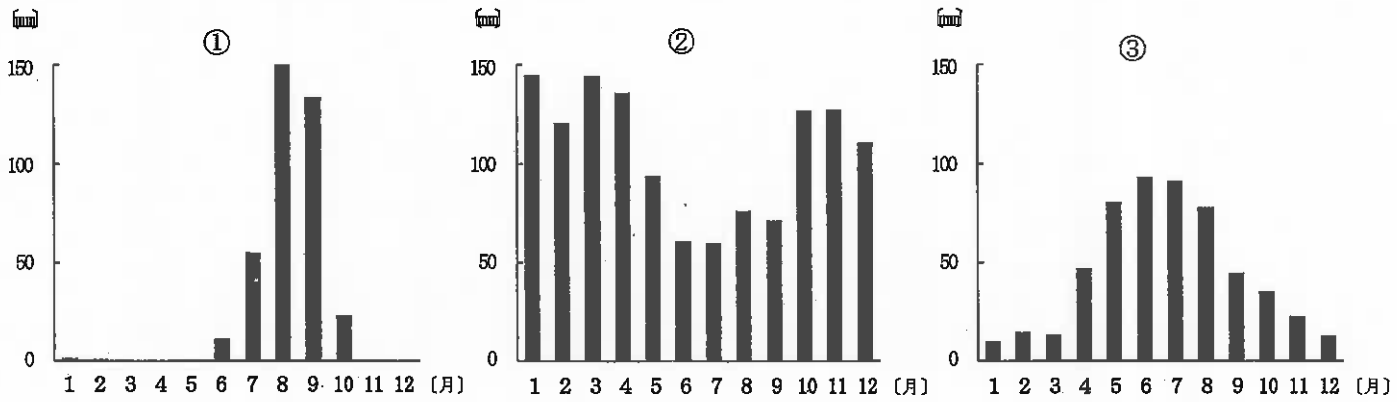
	ア	イ	ウ	エ	オ	カ
最も高緯度に位置する都市	a	a	c	c	h	h
流れる海流の向き	北から南へ	南から北へ	北から南へ	南から北へ	北から南へ	南から北へ

(10枚のうち7)

受験番号		氏名	
------	--	----	--

(答えは、すべて解答用紙に記入すること。)

3 次のグラフ①～③は、地図Ⅰ・地図Ⅱ中のd・f・iのいずれかの都市の月平均降水量を示しています。それぞれどの都市ですか。下のア～カの組み合わせの中から選び、その記号を書きなさい。



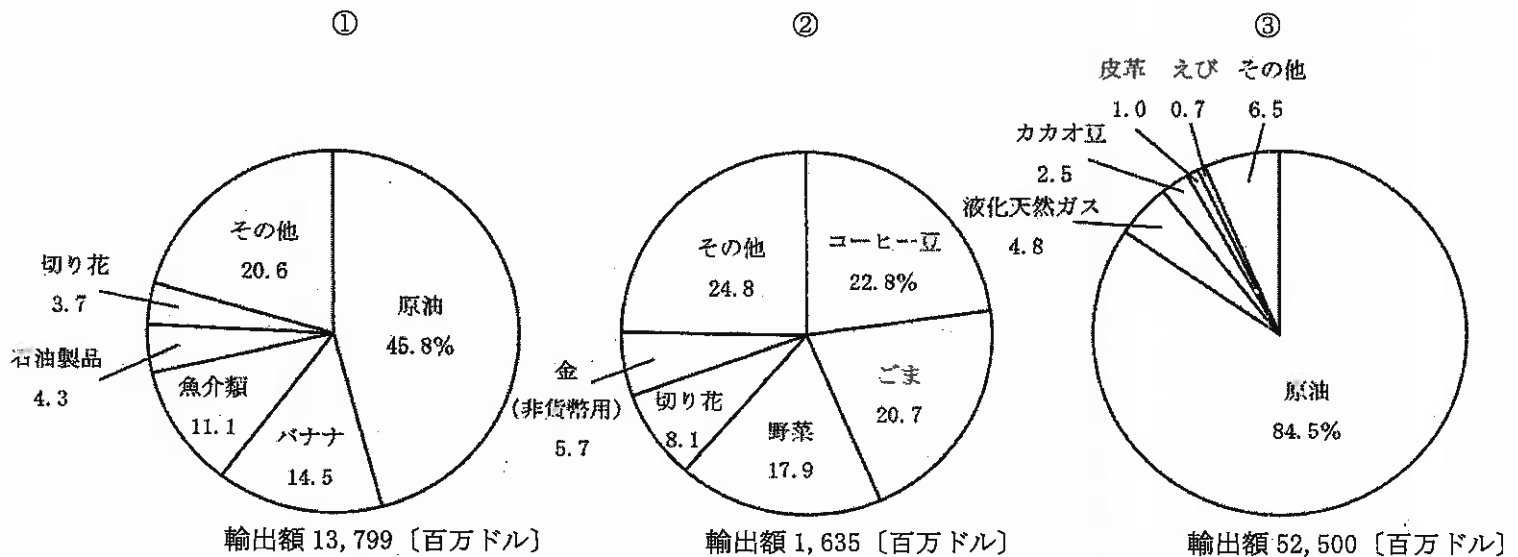
(理科年表平成28年による。)

	ア	イ	ウ	エ	オ	カ
①	d	d	f	f	i	i
②	f	i	d	i	d	f
③	i	f	i	d	f	d

4 地図Ⅰ・地図Ⅱ中のbとj, eとgはそれぞれ同じ鉱産資源の主な産地を示しています。それぞれの鉱産資源名の組み合わせとして正しいものはどれですか。次のア～カの中から選び、その記号を書きなさい。

	ア	イ	ウ	エ	オ	カ
bとj	石炭	石炭	鉄鉱石	鉄鉱石	銅鉱	銅鉱
eとg	鉄鉱石	銅鉱	石炭	銅鉱	石炭	鉄鉱石

5 次のグラフ①～③は、2009年における、地図Ⅰ・地図Ⅱ中のA・B・D国のそれぞれの輸出額及び輸出上位5品目とその割合を示したものです。グラフの①～③は、それぞれどの国を示していますか。下のア～カの組み合わせの中から選び、その記号を書きなさい。また、これらの国の輸出額が大きく異なるのはなぜですか。その理由を輸出品目を踏まえて簡潔に書きなさい。



(地理統計要覧2012・2014年版による。)

	ア	イ	ウ	エ	オ	カ
①	A	A	B	B	D	D
②	B	D	A	D	A	B
③	D	B	D	A	B	A

30 高等学校 地理歴史科 (世界史) 問題用紙

(10枚のうち8)

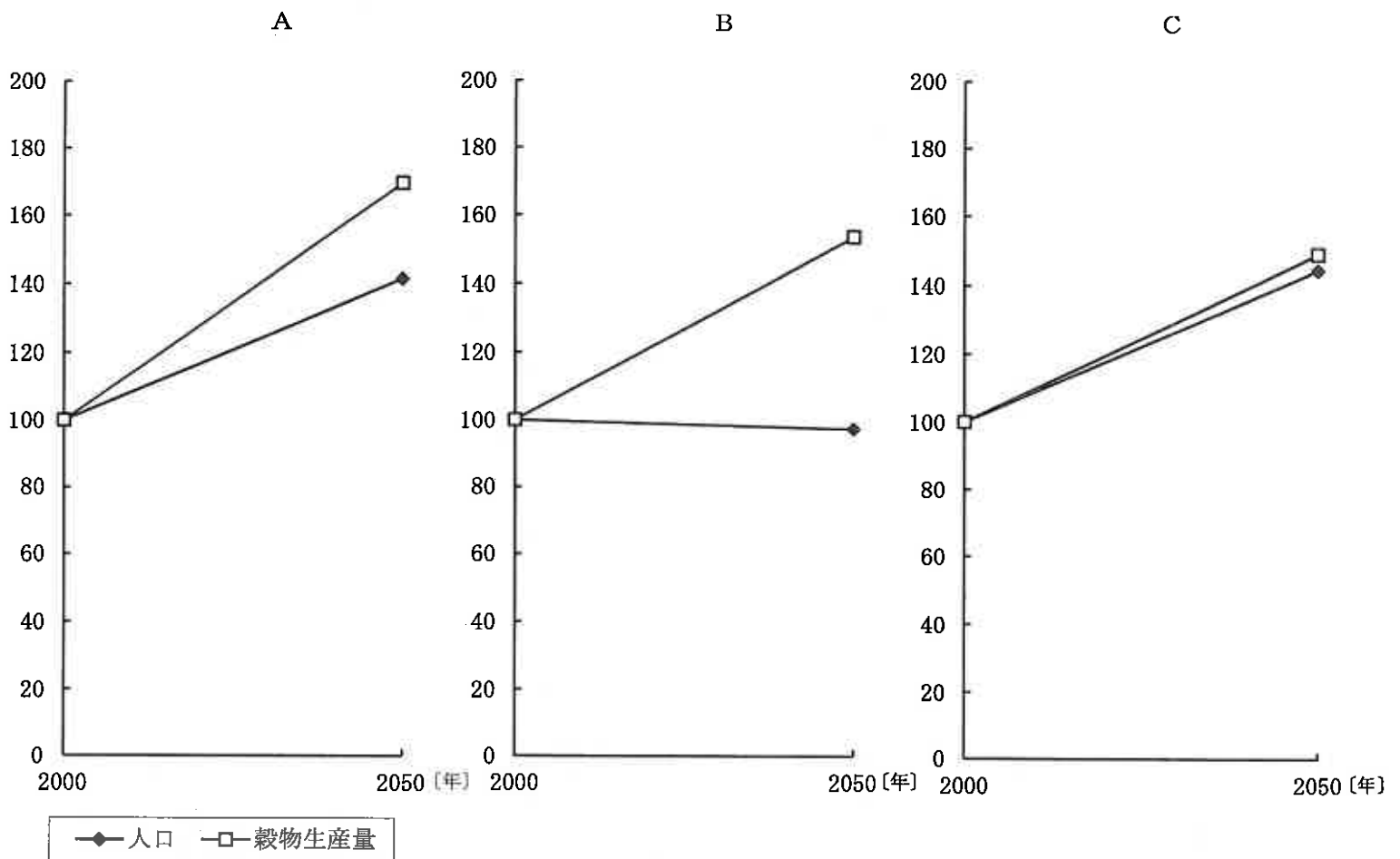
受験番号		氏名	
------	--	----	--

(答えは、すべて解答用紙に記入すること。)

6 次の文章を読んで、下の1～3に答えなさい。

著作権保護の観点により、掲載いたしません。

- 下線部 ① に関して、この居住地のことを、地理学では何といいますか。書きなさい。
- 下線部 ② に関して、次のグラフA～Cはアジア、ヨーロッパ、北アメリカのいずれかの地域における人口と穀物生産量の変化について、2000年を100として2050年の予想を示したものです。グラフA～Cのうち、北アメリカを示したものはどれですか。その記号を書きなさい。また、その記号が答えとなる理由は何ですか。グラフA～Cを比較して、簡潔に書きなさい。



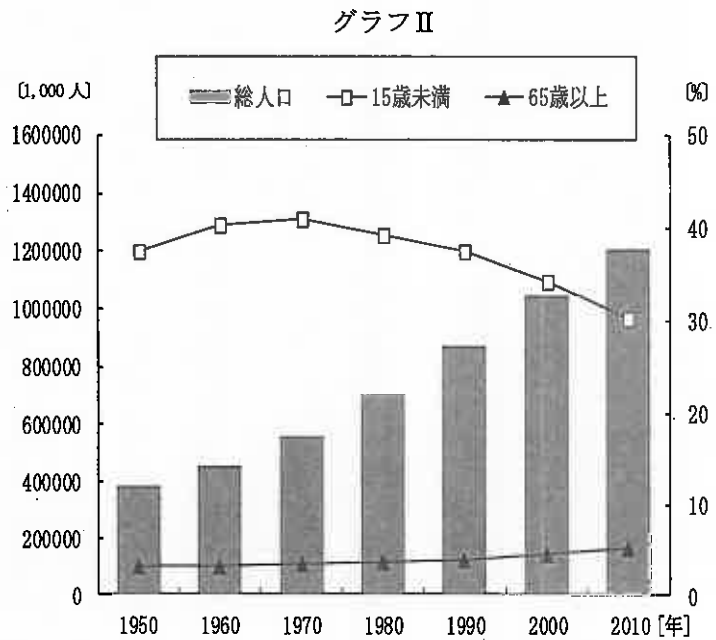
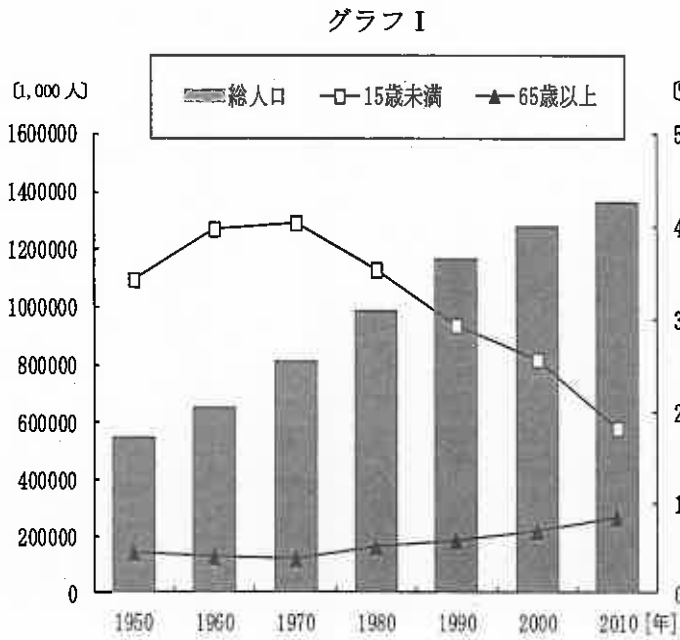
(2050年における世界の食料需給見通し データブックオブ・ザ・ワールド 2017年版による。)

(10枚のうち9)

受験番号		氏名	
------	--	----	--

(答えは、すべて解答用紙に記入すること。)

3 下線部 ③ に関して、次のグラフⅠは中国、グラフⅡはインドにおける総人口と総人口に占める15歳未満及び65歳以上の割合について、1950年から2010年の推移を示したものです。また、下の表は、中国とインドの2012年の産業別人口構成、出生率、死亡率、乳児死亡率について示したものです。人口問題における中国とインドとの相違点は何ですか。グラフと表から読み取れることを踏まえて、それぞれ簡潔に書きなさい。



(世界の統計2014による。)

表

	産業別人口構成 [%]			出生率 [%]	死亡率 [%]	乳児死亡率 [%]
	1次	2次	3次			
中国	33.6	30.3	36.1	12.1	7.2	12.0
インド	47.2	24.7	28.1	20.7	7.9	44.0

(データブックオブ・ザ・ワールド 2015年版による。)

(10枚のうち10)

受験番号		氏名	
------	--	----	--

(答えは、すべて解答用紙に記入すること。)

- 7 平成21年3月告示の高等学校学習指導要領 地理歴史 世界史B 2 内容 (5) オ 資料を活用して探究する地球世界の課題 には、「資料を活用し表現する技能を習得させるとともに、これからの世界と日本の在り方や世界の人々が協調し共存できる持続可能な社会の実現について展望させる。」と示されています。この内容では、どのような学習活動を行うことが求められていますか。簡潔に書きなさい。
- 8 次の表は、フランスの王政復古から二月革命にいたる各時期における議会の選挙について、選挙人数、選挙人資格、被選挙人資格、議員構成を示しています。「世界史B」の授業において、七月王政期に農業人口が60%以上であったことを示したうえで、表から分かることを生徒に考察させたところ、下のようなまとめが示されました。生徒のまとめの文章中の下線部 ①～③のうち、誤っているものはどれですか。その記号を書きなさい。また、生徒にこのまとめを修正させるために、どのようなことを理解させる指導が考えられますか。表を踏まえて簡潔に書きなさい。

	選挙制度			議員構成
	選挙人数	選挙人資格	被選挙人資格	
1827年～1830年 下院議員選挙	約 89,000人	・30歳以上 ・300フラン以上の直接税を払う男子	・40歳以上 ・1000フラン以上の直接税を払う男子	・貴族51% ・ブルジョア49%
1831年～1834年 下院議員選挙	約 167,000人	・25歳以上 ・200フラン以上の直接税を払う男子	・30歳以上 ・500フラン以上の直接税を払う男子	・貴族24% ・ブルジョア75%
1848年4月の憲法制定国民議会の議員選挙	約9,000,000人	・21歳以上 ・男子普通選挙	・25歳以上の男子	・王政支持派 約300人 ・穏健共和派 約500人 ・急進共和派 約100人

(岩波 世界歴史⑱ 近代6 世界歴史体系 フランス史3による。)

(生徒のまとめ)

王政復古のもとのフランスでは、①制限選挙制による立憲君主政がとられ、貴族の勢力の復活が見られた。1830年7月、国王が議会を解散して言論統制や選挙資格の制限を強行しようとしたとき、パリの民衆が蜂起して七月革命がおこった。七月王政は、②少数の上層ブルジョアが優位を占める政権であった。中下層ブルジョアは選挙法改正運動を展開し、これに労働者も同調した。1848年2月、パリで革命が起こり、国王ルイ＝フィリップはイギリスに亡命し、臨時政府が樹立された。4月に男子普通選挙が実施され、選挙の結果、③社会主義者や労働者の代表が加わった政権が樹立された。

- 9 次の1・2に答えなさい。
- 1 イギリスはインド大反乱を鎮圧する中で、インドの統治方法を変えました。どのように変えましたか。「ムガル帝国」と「東インド会社」の語を用いて簡潔に書きなさい。
- 2 貨幣経済が広まるにしたがって、14世紀ころからイギリス・フランス・西南ドイツなどでは、自給自足の封建社会の仕組みはしだいにくずれていきました。このことにより、諸侯や騎士などの領主は、税の徴収方法をどのように変えましたか。「賦役」と「地代」の語を用いて簡潔に書きなさい。

30

高等学校 地理歴史科 (世界史) 解答用紙

(2枚のうち1)

受験番号		氏名	
------	--	----	--

問題番号		解答欄		
1	1			
	2			
	3			
	4	(1)		
		(2)	記号	
		理由		
2	1			
	2			
	3			
	4			
	5			
3	1			
	2			
	3			
	4			
	5	→	→	→
4	1			
	2			
	3			
	4	→	→	
	5			
5	1			
	2			
	3			
	4			
	5	5	記号	
理由				

30

高等学校 地理歴史科 (世界史) 解答用紙

(2枚のうち2)

受験番号		氏名	
------	--	----	--

問題番号		解答欄	
6	1		
	2	記号	
		理由	
	3	中国	
インド			
7			
8	記号		
	指導		
9	1		
	2		