


# 7 幕藩体制とひろしま ～広島城と城下町～



## 1 広島城はいつ頃つくられたのでしょうか？

中国地方を代表する都市広島市の中心部には、「鉄砲町」といった町名や「京口門」というバス停など、城下町であったことを示す地名を見つけることができます。



広島城

広島は、1589(天正17)年、中国地方112万石を支配する大名毛利輝元が山城だった郡山城から山陽道に近く、海に向かって開けた広島の地に城を築いたことに始まります。

1600(慶長5)年の関ヶ原の戦いで勝利した徳川氏が江戸幕府を開き、広島は江戸時代を通じて広島城の城下町として発展しました。



広島城の城下町は、どのようにつくられていき、どのような人々が暮らしていたのでしょうか？

## 2 福島氏はどのような藩をつくろうとしたのでしょうか？

関ヶ原の戦いの後、毛利氏に代わって安芸国・備後国の大名となったのが福島正則です。

正則は、毛利輝元が築いた広島城を本拠地とするとともに、神辺城と三原城に重臣をおき、新たに小方に亀居城、三次に尾関山城、東城に五品嶽城、鞆に鞆城を築いて、戦時に備えました。

また、正則は、1601(慶長6)年に領内の検地を実施し、家臣に領地を与えました。この検地によって「村」と石高を確定し、「村」を庄屋などの村役人に治めさせ、石高に基づいて年貢を徴収させる仕組みを整えました。「村」は、百姓が年貢を納めるところとされました。

さらに、広島城の城下町や宮島、尾道などを、商工業者の活動地域である「町」と定め、「村」とは区別し、武士、農民、町人の分離を進めました。城下町に



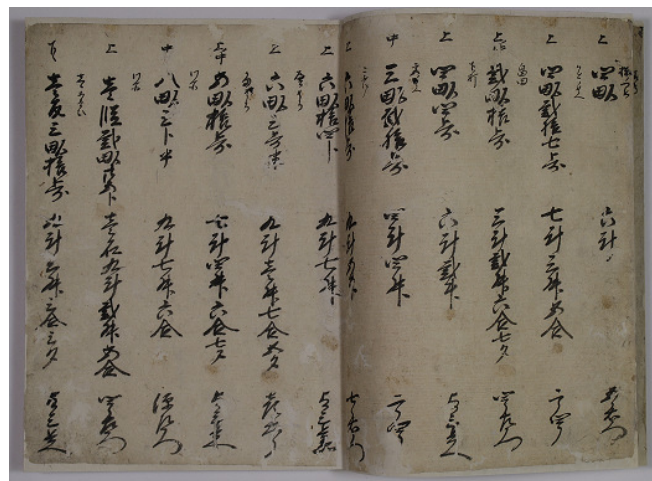
広島城と福島氏の支城

◎一国一城令で残された城

▲一国一城令で破却された城

ついでには、西国街道を広島城下の中心部に引き入れ、その沿道を中心に65もの町人町を整備しました。

一方で、1615(元和元)年に幕府が出した一国一城令で、広島城と三原城以外の城は破却されました。また、1619(元和5)年には、前々年の洪水で壊れた広島城の石垣を幕府に無断で修復したという理由で、武家諸法度違反の罪を問われ、福島氏は改易(所領没収)となりました。



慶長六年安芸国佐西郡伏谷上村検地帳  
(広島城蔵)

□現在の広島市佐伯区にあった村の検地帳です。

### 3 浅野氏は広島城の城下町をどのようにつくっていったのでしょうか？



「広島城下絵屏風」(部分)(広島城蔵)  
□次のページの絵図のどの部分にあたるでしょうか。

広島城に福島氏の後に入城したのが浅野氏です。

浅野氏は外様大名ですが、徳川家とは婚姻による親戚関係にあり、二代藩主光晟は家康の孫にあたります。浅野氏が支配する広島藩は、石高42万6000石余の全国でも指折りの大藩でした。

江戸時代の広島城の城下町には多くの武士や町人が暮らしていました。福島正則が城下町建設を始めた時に、同一地域に同一職種の町人を住まわせる政策を取ったため、研屋町、鉄砲屋町などの町名が見られます。西国街道沿いは商業が発展

し、やがて「本通り」と呼ばれるようになりました。

江戸時代前半期、特に17世紀は「開発の世紀」で、新田開発が積極的に推進され、太田川河口デルタの広島城下でも干拓により、国泰寺村、船入村、大須賀新開、比治村、仁保島新開、江波新開などが開発されました。

### 4 江戸時代の広島城の城下町はどのような町だったのでしょうか？

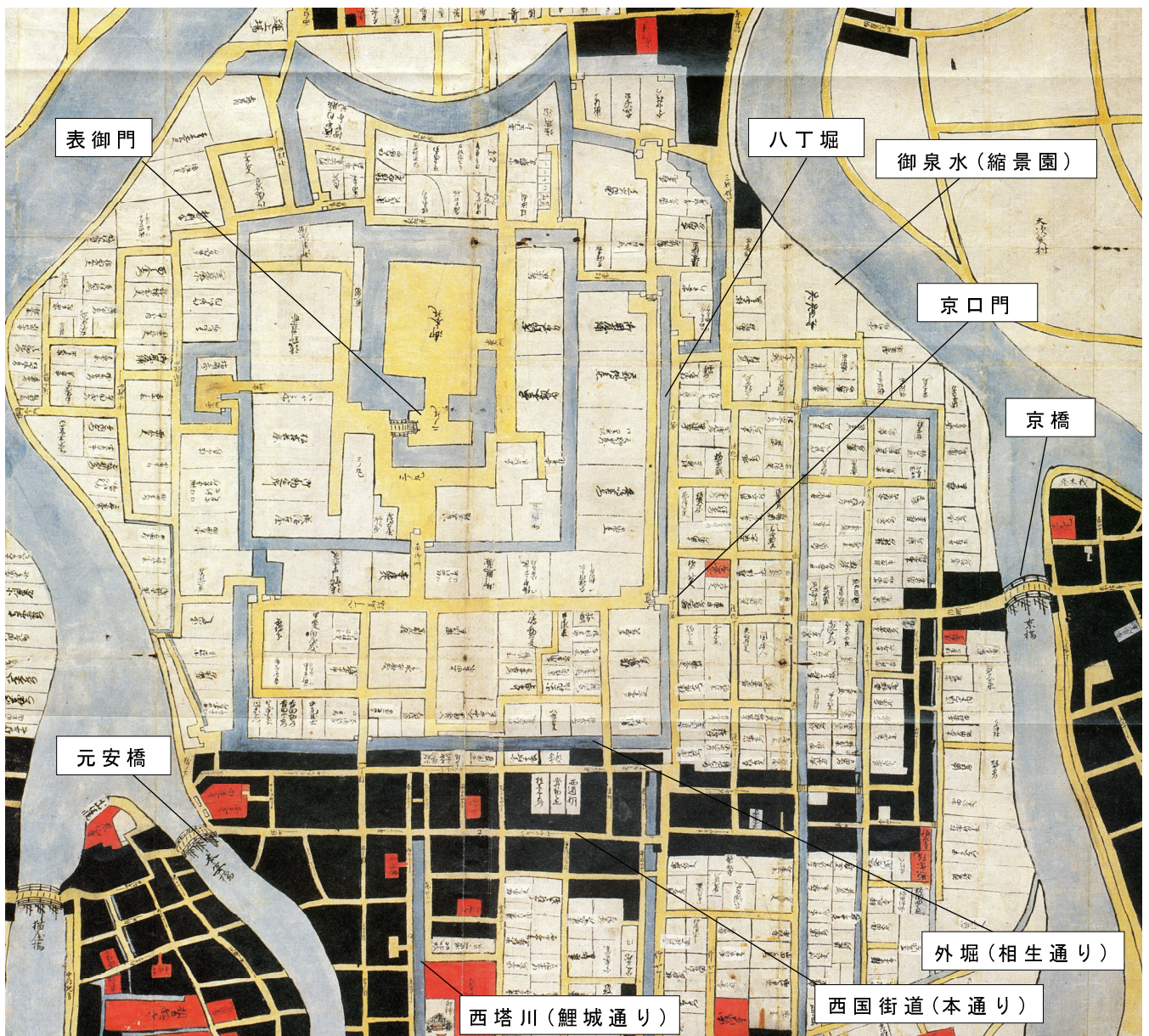
次のページの絵図は、1700(元禄13)年頃の広島城下の絵図です。中央上の黄色の部分広島城本丸と二の丸です。

二の丸の西側には御門橋と表御門も描かれています。また、城の右手、川沿いには、御泉水(現在の縮景園)が描かれています。

城の周囲の白く区割りされた部分は、武士の暮らす武家屋敷で、城を取り囲む形で配置され、武家町を形成していました。身分によって、藩から与えられた屋敷地の広さが異なり、堀の内側には上級武士が住んでいました。

城の南側には西国街道が通り、その両側は町人町とされました。絵図では黒で表されています。西国街道は現在の本通りにあたり、猿猴橋から京橋を通過して、さらに元安橋を渡ります。町人町には町奉行の支配のもと、町年寄などによる自治的な組織が置かれました。

現在の地名や道路名と比べると、八丁堀は、広島城の東側の外堀の長さが八丁(一丁は約109m)だったことに由来しています。また、現在路面電車の通る相生通りは広島城の南側の外堀、鯉城通りは西塔川と呼ばれる運河でした。



「広島城城下町絵図(正徳年間)」(部分)(広島城蔵)

広島城の城下町はどのようにつくられていったのか、調べたことや考えたことをもとに自分の言葉でまとめてみましょう！



## 【もっと調べてみよう！郷土の歴史】

- 広島城の城下町を歩いて調べてみよう！
  - ・現在の広島には、江戸時代の頃のどのような地名が残っているのでしょうか。
  - ・現在の広島には、江戸時代の様子を表すものは何が残っているのでしょうか。
- 福山城の城下町について調べてみよう！
  - ・福山城の城下町は、いつ、誰が、どのようにしてつくっていったのでしょうか。
  - ・福山城の城下町には、どのような人々が暮らしていたのでしょうか。
- 身近な地域の江戸時代の町並みについて調べてみよう！
  - ・身近な地域には、江戸時代の様子を表わすものは何が残っているのでしょうか。

### ◇広島城

住所：広島市中区基町21-1 TEL：082-221-7512 H P

※広島城や広島藩に関する実物の資料や模型などが展示されています。

### ◇福山城博物館

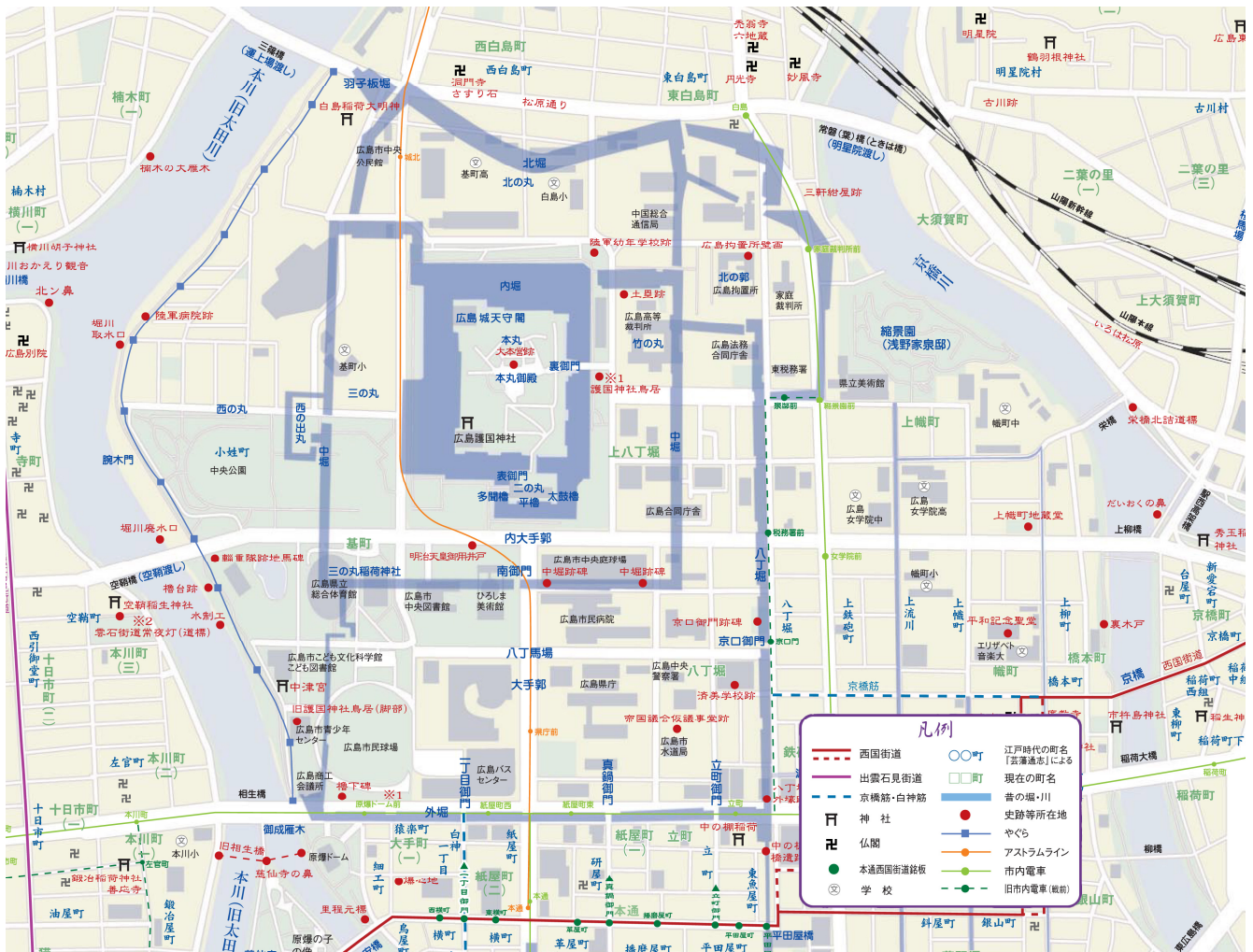

住所：福山市丸之内1-8 TEL：084-922-2117 H P

※福山藩の歴代藩主の遺品や備後の歴史と文化に関する資料が展示されています。

## 【もっと知りたい！郷土の歴史】

現代と江戸時代の広島を比べてみよう  
～広島城下大絵図～

現在の広島市の地図に江戸時代の地図を重ねているよ。比べてみるとおもしろいね！



広島城下大絵図(部分)(広島市中区役所地域起こし推進課作成)